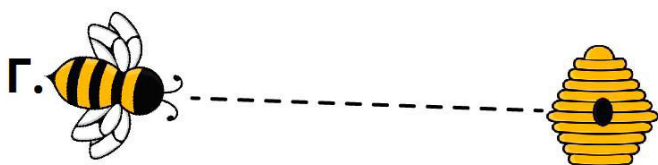


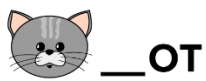


1. У какой пчелы самый короткий путь до улья?



2. Какой набор букв подойдет картинкам?



**МАКЛ**

А.

**КМКО**

Б.

**КТМЮ**

В.

**ОКГД**

Г.

3. В каком примере сложения допущена ошибка?

$3 + 6 = 9$

А.

$8 - 2 = 5$

Б.

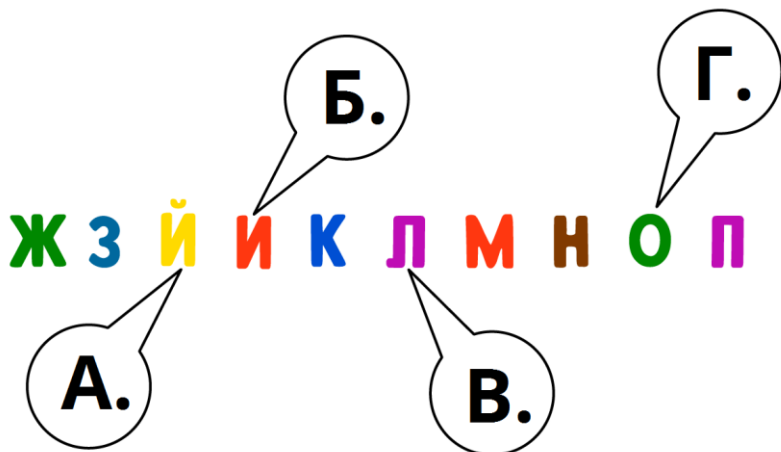
$2 + 6 = 8$

В.

$4 + 3 = 8$

Г.

4. Какие буквы в фрагменте алфавита нужно поменять местами, чтобы буквы находились в правильной последовательности.



5. Погода – это...

- А. Утро
- Б. Метель
- В. Зима
- Г. Среда


6. Какая птица улетает зимовать в теплые края?



А.



Б.



В.



Г.

7. К какой картинке подойдет эта фраза?

# ЕДУ НА ЭСКАЛАТОРЕ



А.



Б.




В.

8. Кто царь зверей?


- А. Человек
- Б. Слон
- В. Лев
- Г. Орел

9. Выберите наибольшее число фигур с равным количеством углов



- А. 7
- Б. 6
- В. 5
- Г. 4

10. На картинке представлен предмет и число, указывающее на какой слог падает ударение. Где допущена ошибка?



11. Где знак неравенства поставлен верно?

А.  $3 > 7$

Б.  $8 < 4$

В.  $9 > 5$

Г.  $2 > 8$

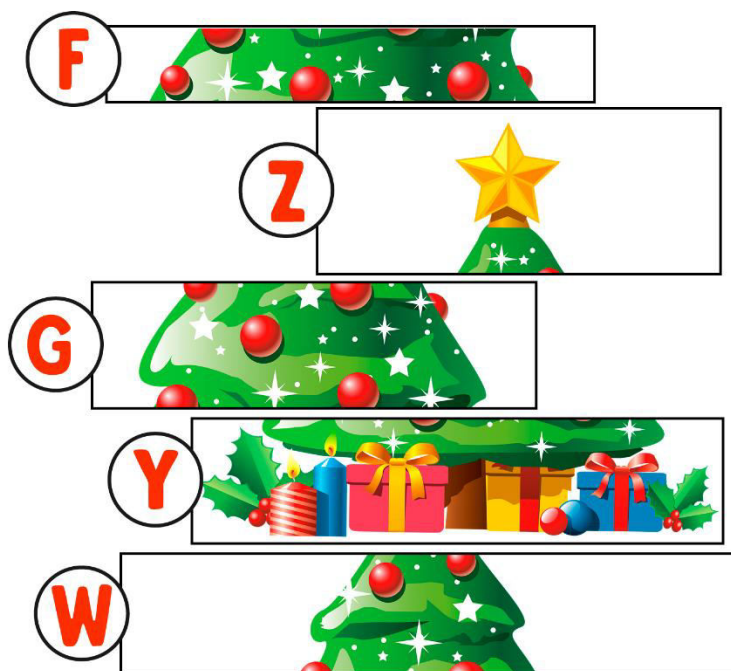
12. В какой последовательности сверху-вниз нужно расположить фрагменты чтобы получилось изображение новогодней ели?

А. Y, F, G, W, Z

Б. W, G, Y, F, Z

В. Z, W, G, F, Y


Г. Z, W, F, G, Y



**13. В каком варианте представлены только неодушевленные предметы?**

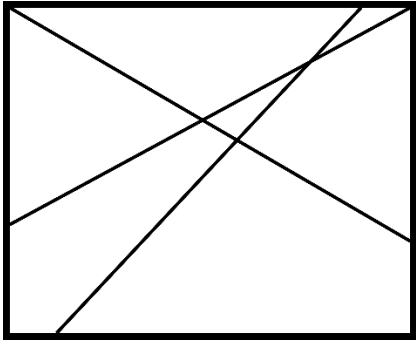
- А. Столица, яблоко, воротник
- Б. Скворечник, молоко, каракатица
- В. Театр, лук, селезень
- Г. Ель, снеговик, хобот

**14. Сколько отличий на картинках?**



- А. 7
- Б. 9
- В. 10
- Г. 12

**15. Сколько четырехугольников на рисунке?**



- A. 9
- Б. 5
- В. 10
- Г. 7